

がつ 日にち

なまえ

10 にちかいのはどっち？

★ 10 にちかいすうじに○をつけましょう。

★ ○をつけたすうじは

- 10
- 9
- 8
- 7
- 6
- 5
- 4
- 3
- 2
- 1

① 1 と 5

あと

で 10になる。

② 3 と 7

あと

で 10になる。

③ 4 と 8

あと

で 10になる。

④ 2 と 9

あと

で 10になる。

⑤ 1 と 6

あと

で 10になる。

0


がつ _____ にち _____

なまえ

10 に ちかいは どっち？

★ 10 に ちかい すうじに ○ を つけましょ。う。


★ ○ を つけた すうじは



①

ち

あと




で 10 になる。

②

ち

あと




で 10 になる。

③

ち

あと




で 10 になる。

④

ち

あと




で 10 になる。

⑤

ち

あと



で 10 になる。